

ТЕМА 11: БУЛЕВ КУБ

Дефиниции:

Булев вектор

Дължина на булев вектор

Тегло на булев вектор: $|\tilde{\alpha}^n| = \sum_{i=1}^n \alpha_i$

Число (номер) на булев вектор: $\nu(\tilde{\alpha}^n) = \sum_{i=1}^n \alpha_i 2^{n-i}$

Разстояние между булеви вектори: $\rho(\tilde{\alpha}^n, \tilde{\beta}^n) = \sum_{i=1}^n |\alpha_i - \beta_i|$

n -мерен двоичен куб: $B^n(J_2^n, E_n), E_n = \{(\tilde{\alpha}_i, \tilde{\alpha}_j), \rho(\tilde{\alpha}_i, \tilde{\alpha}_j) = 1\}$

Слой в n -мерния двоичен куб: $B_k^n = \{\tilde{\alpha} \in J_2^n : |\tilde{\alpha}| = k\}$

Сфера в n -мерния двоичен куб.

Кълбо в n -мерния двоичен куб.

Релация предшествоване на булеви вектори: $\tilde{\alpha}^n \preceq \tilde{\beta}^n \Leftrightarrow \alpha_i \leq \beta_i, i \in I_n$

Непосредствено предшествоване на булеви вектори: $\tilde{\alpha} \preceq \tilde{\beta} \wedge \rho(\tilde{\alpha}, \tilde{\beta}) = 1$

Верига в n -мерния двоичен куб:

$$C = \{\tilde{\alpha}_1, \tilde{\alpha}_2, \dots, \tilde{\alpha}_k | \tilde{\alpha}_1 \preceq \tilde{\alpha}_2 \dots \preceq \tilde{\alpha}_k, \rho(\tilde{\alpha}_i, \tilde{\alpha}_{i+1}) = 1, i \in I_{k-1}\}$$

Стена с ранг k и размерност $n - k$ в n -мерния двоичен куб

Релация лексикографска наредба в J_2^n

Релация – наредба по номер в J_2^n

Задачи за упражнение:

Задача 1: Намерете номерата на векторите: (0111010100), (1111), (10001).

Задача 2: Намерете булев вектор с дължина 6 и число 19.

Задача 3: Намерете броя на векторите $\tilde{\alpha} \in B_k^n : 2^{n-1} \leq \nu(\tilde{\alpha}) < 2^n$.

Решение: Неравенството $\nu(\tilde{\alpha}) < 2^n$ е изпълнено за всяко число, което в двоична бройна система се записва с n цифри. А за да е в сила неравенството $2^{n-1} \leq \nu(\tilde{\alpha})$ старшата цифра на числото в двоичния му запис трябва да е 1. И така, числото на всеки булев вектор с дължина n , който има 1 в първа позиция, изпълнява условието на задачата. Броят на тези вектори е 2^{n-1} .

Задача 4: Намерете броя на ненаредените двойки съседни върхове на B^n .

Задача 5: Да се докаже, че B^n е регулярен и да се намери броят на ребрата му.

Доказателство: Нека $\tilde{\alpha}$ е произволен връх в B^n . Той има точно n съседни върхове - тези, които се получават при инвертиране на една позиция в $\tilde{\alpha}$, така че $d(\tilde{\alpha}) = n$. Следователно, B^n е регулярен от степен n .

Така, като знаем броя на върховете и степента на всеки един от тях, можем да определим броя на ребрата $|E| = \frac{1}{2}n2^n = n2^{n-1}$.

Задача 6: Да се докаже, че B^n е двуделен граф.

Доказателство: Всяко ребро в B^n свързва върхове $\tilde{\alpha}$ и $\tilde{\beta}$, за които $\rho(\tilde{\alpha}, \tilde{\beta}) = 1$. Това значи, че векторите $\tilde{\alpha}$ и $\tilde{\beta}$ имат тегла с различна четност. От това следва, че B^n е двуделен, като двата дяла са $V' = \{\tilde{\alpha} \in J_2^n : |\tilde{\alpha}| = 2k\}$ и $V'' = \{\tilde{\beta} \in J_2^n : |\tilde{\beta}| = 2k + 1\}$.

Задача 7: Намерете броя на ненаредените двойки върхове на B^n , за които е изпълнено $\rho(\tilde{\alpha}, \tilde{\beta}) = k$.

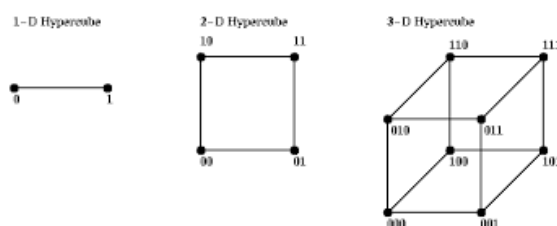
Решение: Решението на задачата включва решаване на три подзадачи. Първата е да определим позициите, в които векторите $\tilde{\alpha}$ и $\tilde{\beta}$ се различават - k на брой. Това става по $\binom{n}{k}$ начина. Втората е да определим съдържанието на двата вектора в тези позиции - по 2^{k-1} начина. Третата е да определим съдържанието на общите позиции - по 2^{n-k} начина.

Така крайният отговор е $\binom{n}{k} 2^{k-1} 2^{n-k} = \binom{n}{k} 2^{n-1}$.

Задача 8: Намерете $|B_k^n|$.

Задача 9: Намерете броя на векторите в стена с ранг k в n -мерния двоичен куб.

Отговор: 2^{n-k}



Фигура 1

Задача 10: Намерете броя на $(n - k)$ -мерните стени в n -мерния двоичен куб.

Задача 11: Дадени са векторите $\tilde{\alpha}, \tilde{\beta} \in J_2^n$ такива, че $\rho(\tilde{\alpha}, \tilde{\beta}) = m$. Да се намери броят на векторите $\tilde{\gamma}$ за които $\rho(\tilde{\alpha}, \tilde{\gamma}) + \rho(\tilde{\beta}, \tilde{\gamma}) = m$.

Решение: Пред вид това, че разстоянието ρ е метрика, е изпълнено:

$$\forall \tilde{\gamma} \in B^n (\rho(\tilde{\alpha}, \tilde{\gamma}) + \rho(\tilde{\beta}, \tilde{\gamma}) \geq \rho(\tilde{\alpha}, \tilde{\beta}))$$

Ние ще преброим тези вектори, за които в неравенството на триъгълника се достига равенство.

В позициите, в които $\tilde{\alpha}$ и $\tilde{\beta}$ се различават, както и да изберем съответната координата на $\tilde{\gamma}$, той ще се различава точно от единия от двата вектора. Следователно $\tilde{\gamma}$ трябва да съвпада с другите два вектора там, където те съвпадат, в противен случай ще се получи, че $\rho(\tilde{\alpha}, \tilde{\gamma}) + \rho(\tilde{\beta}, \tilde{\gamma}) > m$.

Търсените вектори са елементите на множеството $\Gamma = \{\tilde{\gamma} | \alpha_i = \beta_i \rightarrow \gamma_i = \alpha_i\}$, чиято мощност е $|\Gamma| = 2^{n-m}$.

Задача 12: Дадени булевите вектори $\tilde{\alpha}, \tilde{\beta} \in J_2^n$ такива, че $\tilde{\alpha} \preceq \tilde{\beta} \wedge \rho(\tilde{\alpha}, \tilde{\beta}) = k$. Да се намери броят на векторите $\tilde{\gamma} : \tilde{\alpha} \preceq \tilde{\gamma} \preceq \tilde{\beta}$.

Решение: Векторите $\tilde{\alpha}$ и $\tilde{\beta}$ се различават в k позиции, като там координатите на $\tilde{\alpha}$ са нули, а на $\tilde{\beta}$ са единици. За да е изпълнено $\tilde{\alpha} \preceq \tilde{\gamma} \preceq \tilde{\beta}$ трябва векторът $\tilde{\gamma}$ да се различава от $\tilde{\alpha}$ и $\tilde{\beta}$ само там, където те се различават.

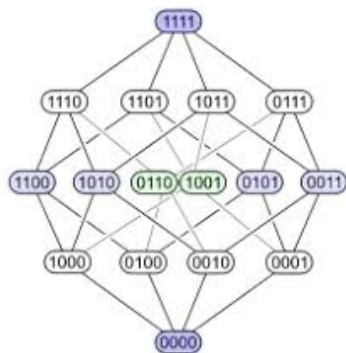
Търсените вектори са елементите на множеството $\Gamma = \{\tilde{\gamma} | \alpha_i = \beta_i \rightarrow \gamma_i = \alpha_i\}$, чиято мощност е $|\Gamma| = 2^{n-k}$.

Задача 13: Намерете броя на векторите $\tilde{\alpha} \in B_k^n$, в които между всеки две единични координати има поне r нулеви.

Задача 14: Да се докаже, че:

- a) Ако два n -мерни булеви вектори имат равни тегла, то те са несравними;
- b) Измежду всеки $(n + 2)$ n -мерни булеви вектори има двойка несравними вектори;
- c) В J_2^n има само два сравними противоположни вектора;
- d) Броят на n -мерни булеви вектори, които не са сравними с даден вектор $\tilde{\alpha} \in B_k^n$, е равен на $2^n - 2^k - 2^{n-k} + 1$;
- e) В J_2^n съществува подмножество с мощност $\binom{n}{\lfloor n/2 \rfloor}$, чиито елементи са два по два несравними вектори.

Задача 15: Намерете броя на различните максимални растящи вериги в B^n .



Фигура 2

Решение: За да бъде максимална една верига, тя трябва да започва с нулевия вектор $(000\dots 0)$ и да завършва с единичния вектор $(111\dots 1)$. Пред вид това, че разстоянието между съседните вектори във веригата е 1, то всяка верига започва в слой B_0^n , минава през всеки следващ слой на булевия куб и завършва в последния слой B_n^n .

Когато веригата е построена от $\tilde{\alpha}_0 \in B_0^n$ до $\tilde{\alpha}_i \in B_i^n$, то следващият вектор можем да изберем по $n - i$ начина. Така броят на всички вериги с исканите свойства е: $n(n - 1)(n - 2)\dots 2.1 = n!$

Задача 16: Намерете броя на различните максимални растящи вериги в B^n , които съдържат фиксиран вектор $\tilde{\alpha} \in B_k^n$.

Решение: Както видяхме в предишната задача, за да бъде максимална една верига, тя трябва да започва с нулевия вектор $(000\dots 0)$ и да завършва с единичния вектор $(111\dots 1)$. За да е сигурно, че веригата ще съдържа указания вектор, ще я разгледаме като съставена от две вериги - първата от вектора $(000\dots 0)$ до вектора $\tilde{\alpha}$ и втората от същия вектор до единичния вектор $(111\dots 1)$.

Първата верига започва от единствения вектор в слоя B_0^n и минава последователно през всеки следващ по намер слой, докато стигне до $\tilde{\alpha} \in B_k^n$. За да осигурим веригата да минава точно през указания вектор от слой B_k^n , да си представим построяването ѝ в обратна посока - от $\tilde{\alpha}$ до $(000\dots 0)$. При всеки преход към вектор от предишен слой трябва да намалим с едно броя на единиците. Така, броят на тези вериги е $k(k-1)(k-2)\dots 2.1 = k!$

Съответно решението за броя на веригите от $\tilde{\alpha}$ до $(111\dots 1)$ е:

$$(n-k)(n-k-1)\dots 2.1 = (n-k)!$$

Така броят на всички максимални растящи вериги, съдържащи вектора $\tilde{\alpha} \in B_k^n$ е $k!(n-k)!$

Задача 17: Да се докаже, че B^n е Хамилтонов граф.

Доказателство: Ще докажем твърдението с индукция по размерността на хиперкуба.

$P(n)$: B^n съдържа Хамилтонов цикъл

1. База: $n = 2$ Следният път в двумерния куб B^2 : $(00), (01), (11), (10), (00)$ е Хамилтонов цикъл $\Rightarrow P(2)$

2. Индукционна хипотеза: Предполагаме, че за някое $k \geq 2$: $P(k)$

3. Индукционна стъпка: Ще докажем $P(k+1)$

Съгласно ИХ в B^k има Хамилтонов цикъл. Нека $\tilde{\alpha}_0, \tilde{\alpha}_1, \dots, \tilde{\alpha}_{2^k-1}$ е верига тип цикъл, която съдържа всички върхове на куба.

Да съставим следната редица от вектори от J_2^{k+1} :

$$0\tilde{\alpha}_0, 0\tilde{\alpha}_1, \dots, 0\tilde{\alpha}_{2^k-1}, 1\tilde{\alpha}_{2^k-1}, \dots, 1\tilde{\alpha}_1, 1\tilde{\alpha}_0$$

Както лесно можем да съобразим, в редицата няма повторение на вектори и всеки два вектора, съседни в редицата, са на разстояние 1. Първият и последният вектори в редицата също са на разстояние 1. Следователно, това е верига тип цикъл, която съдържа всички върхове на B^{k+1} .

Така доказахме, че B^{k+1} е Хамилтонов граф.

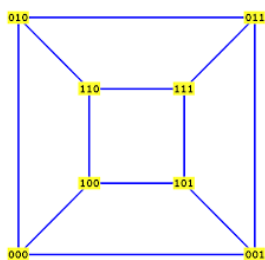
4. Заключение: $\forall n \geq 2$: $P(n)$

Задача 18: Да се докаже, че в B^n няма цикли с нечетна дължина.

Доказателство: Липсата на цикли с нечетна дължина следва от факта, че графът е двуделен.

Същото може да се провери и директно, като съобразим, че всеки два върха, които са съседни в път в булевия куб, принадлежат на съседни по номер слоеве на куба. Така ако разгледаме произволен цикъл в графа и произволен връх от него, за да се върне пътят в същия връх трябва да премине четен брой ребра.

Задача 19: Да се докаже, че B^n е планарен за стойности на $n \in \{1, 2, 3\}$ и не е планарен при $n \geq 4$.



Фигура 3

Задача 20: Да се намери максимална антиклика в B^n .

Задача 21: Множеството $A \subseteq B^n$ е пълно, ако произволен вектор $\tilde{\beta} \in B_k^n$ може да се намери при положение, че са известни разстоянията $\rho(\tilde{\alpha}, \tilde{\beta}) : \tilde{\alpha} \in A$. Базис ще наричаме минимално пълно множество. Да се докаже, че:

- произволна растяща верига $\tilde{\alpha}_1, \tilde{\alpha}_2, \dots, \tilde{\alpha}_n \in B^n$ е базис;
- B_1^n и B_{n-1}^n са пълни при $n > 2$;
- да се намери n , при което B_1^n не е базис.

Задача 22: Изпълнете следните действия:

- Определете B^3 ;
- Дайте геометрична интерпретация на B^3 ;
- Сортирайте във възходящ ред лексикографски и по номер векторите, които са върхове на куба B^3 ;
- Определете релацията предшества в тримерния булев куб B^3 ;
- Дайте примери за несравними вектори, върхове на куба B^3 ;
- Дайте примери за стени на куба B^3 .